

# DOSSIER PÉDAGOGIQUE

## La Citadelle Dinant





# BIENVENUE À LA CITADELLE DE DINANT



Voici Julie et Bernard.

Comme toi, ils sont venus visiter la citadelle avec leur école. De retour à la maison, ils ont décidé de créer un petit carnet racontant leur expédition.

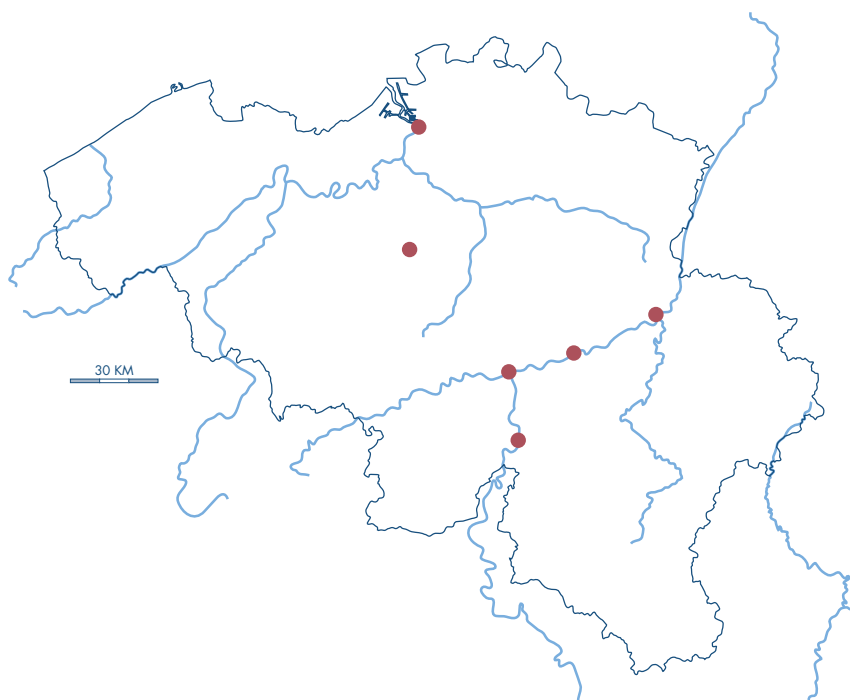
Malheureusement, ils ne se souviennent pas de tout. Accompagne-les tout au long de ce dossier pédagogique et aide-les à compléter leur carnet grâce aux différents jeux et aux questions.

## OÙ SE SITUE DINANT?

Situe sur la carte  
(INDIQUE LE NUMÉRO)

Bruxelles . . . . . (1)  
Anvers . . . . . (2)  
Liège . . . . . (3)  
Huy . . . . . (4)  
Namur . . . . . (5)  
Dinant. . . . . (6)

L'Yser (7), L'Escaut (8), La  
Meuse (9) qui sont les trois  
f. . . . . de Belgique



Complète

(NORD, SUD, EST, OUEST)

Namur est au . . . . . de Dinant

Dinant est à l' . . . . . de Liège

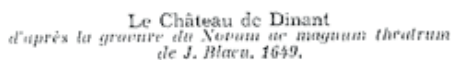
Dinant est au . . . . . de Namur



Savais-tu que...

La Meuse est un fleuve dont la source est située en Haute-Marne, à 400m d'altitude et l'embouchure à la Mer du Nord, aux Pays-Bas.

Long de 925 km, il traverse la France, la Belgique et les Pays-Bas. La citadelle est située sur la rive droite de la Meuse.



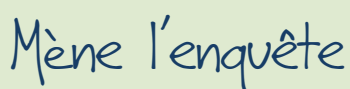
Au 13<sup>e</sup> siècle, une longue enceinte est construite autour de la ville, renforcée de tours et percée de plus de dix portes.



Les premiers châteaux étaient construits en bois. A partir du 13<sup>e</sup> siècle, on les bâtit en pierre

et on les protège par des murailles.

un château fort est un lieu de vie fortifié pour le seigneur et sa famille, où ils sont protégés par des soldats. Des artisans et des paysans vivent et travaillent également à l'intérieur de la forteresse.



Mot ④ à remplacer page 19

Déchiffre les mots codés en t'aidant du tableau de correspondance pour découvrir le nom de celui qui a fait construire le premier château-fort en 1040.

A	B	C	D	E	F	G	H	I	J	K	L	M
𐌆	𐌇	𐌈	𐌉	𐌊	𐌋	𐌌	𐌍	𐌎	𐌏	𐌐	𐌑	𐌒

N	O	P	Q	R	S	T	U	V	W	X	Y	Z
𐌓	𐌔	𐌕	𐌖	𐌗	𐌘	𐌙	𐌚	𐌛	𐌜	𐌝	𐌞	𐌟

𐀀 𐀁 𐀂 𐀃 𐀄 𐀅      𐀆 𐀇 𐀈 𐀉 𐀊 𐀋      𐀌 𐀍 𐀎 𐀏 𐀐 𐀑

AU TEMPS DU SAC DE DINANT  
PAR CHARLES LE TEMERAIRE (1466)

Lis le texte ci-dessous sur l'histoire de la dinanderie. Remets ensuite les images de la page suivante dans l'ordre chronologique en les numérotant de 1 à 5.

**1** Jusqu'au 9<sup>e</sup> siècle, on utilise uniquement le cuivre pour fabriquer des objets d'usage courant: des chaudrons, des chandeliers. Les villes de Huy et de Dinant, situées sur la Meuse, deviennent rapidement des centres prestigieux. Mais au début du 13<sup>e</sup> siècle, les Hutois délaissent le cuivre pour s'intéresser aux draps. Dinant détient alors le monopole. On ne parle plus que de "cuivres de Dinant", de la "dinanderie".

**2** A son tour, Bouvignes, la ville voisine, commence à travailler le cuivre. A cette époque, Bouvignes appartient au comté de Namur tandis que Dinant fait partie de la principauté de Liège. Une rivalité commence alors à naître entre les deux cités, lutte qui durera pendant quatre siècles. En 1319, les Bouvignois construisent une tour de défense, appelée Crevecœur, au bord de la Meuse. Les Dinantais ripostent et bâtissent une tour plus grande juste en face, la tour Montorgueil.

**3** Au 15<sup>e</sup> siècle, une guerre éclate entre Louis XI, roi de France et Philippe le Bon, duc de Bourgogne. Les Dinantais décident de prendre le parti de la France. En 1466, l'armée de Philippe le Bon, commandée par son fils Charles le Téméraire, vient faire le siège de la ville.

**4** A la tête de 30.000 hommes, Charles le Téméraire entre dans Dinant après 8 jours de siège. Il décide de se venger des insultes qu'il a reçu précédemment: huit-cent hommes, liés deux à deux, sont jetés dans la Meuse.



**5** Pendant trois jours, Dinant va être pillée avant d'être incendiée. Une fois le feu éteint, il ne reste presque plus rien de la ville: remparts, murailles, maisons, églises sont rasés. Des dinandiers émigrent alors dans d'autres villes comme Namur et Tournai.

Voici quelques définitions pour t'aider dans ta compréhension du texte

- **Détenir le monopole** : avoir l'exclusivité, avoir le privilège
- **Prendre le parti de quelqu'un** : se mettre du côté de quelqu'un
- **Faire le siège d'une ville** : couper une ville de tout soutien pour s'en emparer
- **Piller une ville** : s'emparer violemment des biens qui se trouvent dans une ville



# AU TEMPS DU SAC DE DINANT PAR CHARLES LE TEMERAIRE (1466)



AU TEMPS DE L'OCCUPATION  
FRANÇAISE (17<sup>E</sup> SIECLE)

## 1. PRISE DE DINANT PAR LES ARMÉES DE LOUIS XIV

Observe bien Louis XIV et retrouve l'ombre qui lui correspond.



☐ A



☐ B



☐ C



☐ D



☐ E

AU TEMPS DE L'OCCUPATION  
FRANÇAISE (17<sup>E</sup> SIECLE)

En 1672, la guerre de Hollande commence. Elle oppose la France de Louis XIV à l'Espagne, les Provinces-Unies et l'Empire romain germanique.

En 1675, le général français Médaillan demande à la ville, dont le château est occupé par une garnison allemande, de laisser entrer ses militaires : « Je vous exhorte à ouvrir vos coeurs pour témoigner la joie que vous aurez à l'approche des armées du roi, espérant qu'elles vous délivreront de l'oppression. »

Face à sa demande, les Dinantais répondent, dans un premier temps que la garnison allemande les en empêche. Le maréchal français de Créqui reçoit alors l'ordre d'assiéger la ville de Dinant.

En te basant sur les informations contenues ci-dessus et dans les deux documents de la page suivante, réponds par VRAI ou FAUX aux affirmations ci-dessous :

1. L'Espagne est alliée aux Provinces-Unies ☐ Vrai ☐ Faux
2. Les Dinantais laissent tout de suite rentrer l'armée française dans la ville ☐ Vrai ☐ Faux
3. Une garnison de 500 soldats allemands occupent le château ☐ Vrai ☐ Faux
4. Le maréchal de Créqui attaque Namur et Charlemont en même temps que Dinant ☐ Vrai ☐ Faux
5. Le siège du château se termine 15 jours après l'entrée des Français dans la ville ☐ Vrai ☐ Faux
6. Le duc de Lorraine veut aider les Français ☐ Vrai ☐ Faux
7. Le duc de Lorraine arrive après que la ville ait été prise ☐ Vrai ☐ Faux



# AU TEMPS DE L'OCCUPATION FRANÇAISE (17<sup>E</sup> SIECLE)

## Document 1 : gravure de L. de Chatillon

### Inscription :

*« Dinant, ville célèbre de l'évesché de Liège, scituée sur la Meuse, a quatre lieues de Namur ; le mareschal de Créqui, par ordre du Roy, s'estant présenté devant cette ville le 19 mai 1675, elle ouvrit d'abord ses portes. Son château, bâti sur un roc d'une espèce de marbre très dur, se défendit mieux et 500 Allemands qui estoient dedans ne se rendirent qu'après que la mine yeût fait bresche : le 29 mai 1675. »*



## Document 2 : texte de C. Quincy,

« Histoire militaire du règne de Louis le Grand », 1726

*« Ce général qui était campé vers la Meuse pour mieux tromper les ennemis, fit passer un détachement de son armée au-deçà, feignant de vouloir assiéger Namur ou Charlemont, afin d'empêcher qu'une partie des garnisons de ces places ne se jetassent dans Dinant. Il se rendit ensuite devant cette place avec le reste de ses troupes qu'il investit le 22 du mois de mai. Cette place est située sur le bord de la Meuse. La ville dont il s'empara le deuxième jour, est commandée de tous les côtés ; ainsi elle fit fort peu de résistance. Il attaqua ensuite le château qui ne tint que quatre jours de tranchées, quoique la situation soit bonne, étant sur une montagne presque de roc. Le Duc de Lorraine n'eut pas plutôt avis du siège de Dinant, qu'il rassembla tous les quartiers pour venir à son secours ; mais elle fut prise avant qu'il pût arriver, c'est-à-dire le 29 mai. »*

AU TEMPS DE L'OCCUPATION  
FRANÇAISE (17<sup>E</sup> SIECLE)

## 2. L'ŒUVRE DE VAUBAN



## Mène l'enquête

Te souviens-tu du surnom de Louis XIV?

- Le Bien Aimé
- Le Roi soleil
- Le Roi bourgeois

Un personnage important accompagne le roi, Vauban. Qui était-il?

- Un médecin
- Un savant
- Un architecte


Mots ⑥ et ⑦ à replacer page 20



## Savais-tu que...

Dès le 15<sup>e</sup> siècle, les progrès de l'artillerie vont rendre inutiles les imposantes murailles des châteaux-forts. Suite à l'apparition du canon tirant un boulet métallique, ces forteresses doivent évoluer.

Sous l'impulsion d'ingénieurs français dont Vauban au 17<sup>e</sup> siècle, les tours rondes médiévales sont remplacées par des bastions. Les fortifications s'enterrent dans le sol pour résister aux tirs des canons. Ces places fortes ont souvent une forme d'étoile.





# AU TEMPS DE LA CITADELLE HOLLANDAISE (1818-1830)

## 1. SA CONSTRUCTION

Au fronton de l'entrée, une étrange inscription en latin mentionne en quelle année les travaux d'édification de la citadelle ont été terminés: "Ni circumspicias. Aggrediare cave. Anno VI post proelium ad Waterloo." Ce qui signifie: "Si tu n'es pas prudent, prends garde d'être attaqué, 6<sup>e</sup> année après le combat de Waterloo."



### Mène l'enquête

En quelle année cette célèbre bataille s'est-elle déroulée? Pour t'aider, tu trouveras ci-dessous l'année du conflit. Mais celle-ci est en chiffres romains. A toi de la déchiffrer!

MDCCCXV .....

I = 1	C = 100
V = 5	D = 500
X = 10	M = 1000
L = 50	

Tu l'as compris, les travaux de construction de la citadelle s'achèvent six ans après la bataille de Waterloo. Si cette dernière s'est déroulée en ..... la construction de la citadelle s'est achevée en .....

↑ Mot ❶ à replacer page 19



AU TEMPS DE LA CITADELLE  
HOLLANDAISE (1818-1830)

## 2. L'ARCHITECTE DE LA CITADELLE

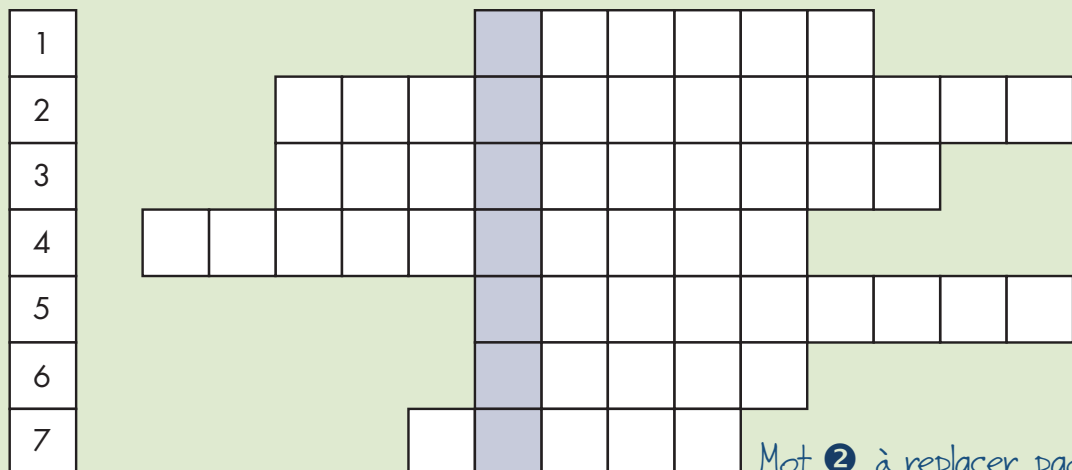
Le point de vue de la citadelle, offre une vue remarquable sur la ville de Dinant. En fonction de ce que tu as observé, complète le tableau ci-dessous.



## Mène l'enquête

A l'aide des définitions ci-dessous, trouve le nom de l'architecte de la citadelle.

1. Cheval ayant donné son nom au célèbre rocher sur la rive droite du fleuve
2. Moyen de transport par câble aérien
3. Ouverture pratiquée dans la grande galerie pour permettre la défense
4. Bâtiment religieux situé au pied de la citadelle
5. Instrument de musique dont l'inventeur est né à Dinant
6. Fleuve traversant la ville
7. Pièce d'artillerie qui tire des boulets



Mot ② à remplacer page 19



AU TEMPS DE LA CITADELLE  
HOLLANDAISE (1818-1830)

## Savais-tu que...

vue du ciel, la citadelle a la forme d'un pentagone allongé irrégulier. Ce **tracé polygonal** est inspiré des **travaux, du 18<sup>e</sup> siècle, de l'ingénieur français Marc-René de Montalembert**. Son système de fortifications marque l'abandon des bastions mis en place par Vauban **au 17<sup>e</sup> siècle**.

Selon Montalembert, il faut adapter les fortifications à l'évolution de l'armement: l'artillerie de la forteresse doit écraser celle de l'ennemi avant qu'il n'ait le temps de la mettre en place. Pour cela, les canons doivent être protégés dans des casemates. Ce n'est qu'au 19<sup>e</sup> siècle que des forts, s'inspirant de ses principes, seront construits dont le célèbre fort Boyard.

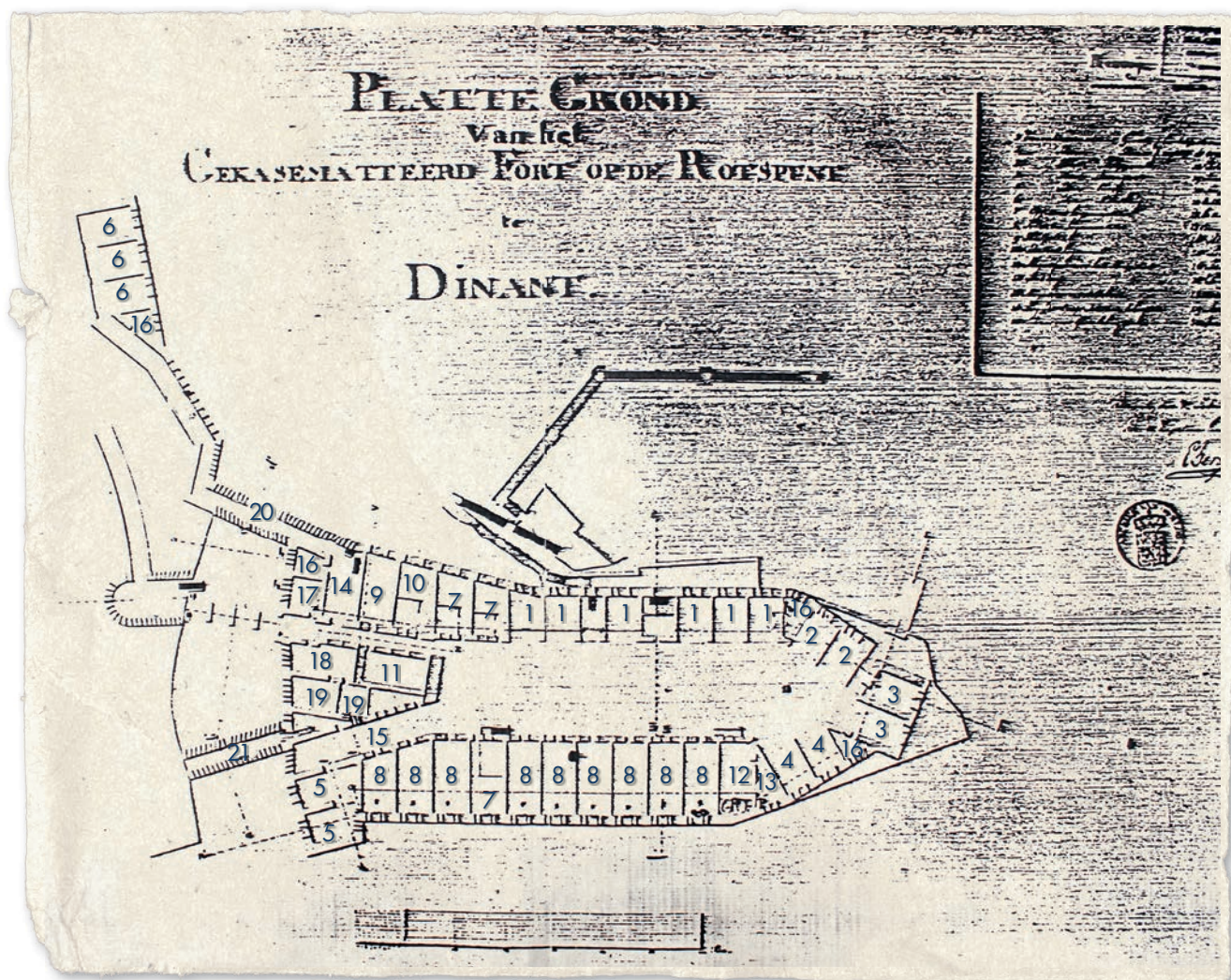


# AU TEMPS DE LA CITADELLE HOLLANDAISE (1818-1830)

## 3. PLAN DE LA CITADELLE

Voici le plan de la citadelle en 1820, tel qu'il a été dessiné par son architecte. En t'aidant de la légende, colorie :

- en bleu, les lieux consacrés à la vie quotidienne des soldats
- en rouge, les lieux destinés au stockage de matériel
- en vert, les lieux affectés à la défense



1	Canons vers Givet (gauche)	8	Logement soldats	15	Dépôt pour le génie
2	Canons vers Givet (droit)	9	Hôpital	16	Poudrière
3	Canons vers Philippeville	10	Logement médecin	17	Salle de garde officiers
4	Canons vers Bouvigne	11	Magasin hôpital	18	Salle de garde soldats
5	Canons vers Ciney	12	Boulangerie	19	Prisons militaires
6	Canons vers le pont sur la Meuse	13	Magasin pour celle-ci	20	Galerie double
7	Logement officiers	14	Dépôt artillerie	21	Galerie simple



AU TEMPS DE LA CITADELLE  
HOLLANDAISE (1818-1830)

## 4. LA VIE QUOTIDIENNE DE LA GARNISON



Document : lithographie anonyme, vers 1830 (collection privée)

Légende : « Vue de la citadelle de Dinant et de la chaîne d'alimentation qui doit être remplacée par un puits-foré, creusé dans le rocher calcaire ».



## Savais-tu que...

Les soldats bénéficiaient d'une ration de pain de 750 g et de deux repas par jour: un bouillon servi avec de la viande et des légumes vers 10h00 et une ration de pommes de terre à 16h00. Les réfectoires n'existaient pas encore et les hommes mangeaient dans leur chambrée collective. Sur une journée, les soldats passaient environ 6 à 8 heures en exercices (manèuvres d'armes, exercices de gymnastique, marches).

Observe l'étrange machine située sur le point de vue de la citadelle. Sais-tu à quoi elle sert ? Aide-toi de la légende de l'image. Quel nom lui donne-t-on ?

.....

Cette machine, installée dans un petit bâtiment en surplomb d'environ cinq mètres, hissait l'eau d'une hauteur de 90 mètres pour alimenter la citerne de la citadelle. Plus tard, elle sera remplacée par un puits, à l'abri des attaques.

## Mène l'enquête

Quel élément important du paysage l'artiste n'a-t-il pas représenté ?

.....

↗ Mot ③ à remplacer page 19



AU TEMPS DE LA CITADELLE  
HOLLANDAISE (1818-1830)

## 5. LA DÉFENSE DE LA CITADELLE

Mot 10 à replacer page 20



## Mène l'enquête

Retrouve les mots suivants qui se sont cachés dans la grille. Attention, ils sont mis dans tous les sens, sauf en diagonale. Avec les lettres restantes, tu trouveras le nom de l'arme utilisée dans les meurtrières des galeries de défense de la citadelle.

GIBERNE – KEPI – ESPADON – ARBALETE – HACHE  
PERTUISANE – CUIRASSE – BOMBE – EPEE – SILEX  
BAÏONNETTE – MORTIER – TROMBLON – LANCE – COFFRE  
MITRAILLEUSE – BOULET – CANON – COTTE – CASQUE

T	P	E	S	S	A	R	I	U	C	F	E	U	E
E	E	N	R	E	B	I	G	S	O	E	T	E	T
L	R	H	A	C	H	E	I	L	F	P	T	S	T
U	T	D	E	U	Q	S	A	C	F	E	O	P	E
O	U	E	M	O	R	T	I	E	R	E	C	A	N
B	I	R	E	E	C	N	A	L	E	B	M	D	N
P	S	T	R	O	M	B	L	O	N	M	K	O	O
C	A	N	O	N	X	E	L	I	S	O	E	N	I
A	N	A	R	B	A	L	E	T	E	B	P	R	A
T	E	S	U	E	L	L	I	A	R	T	I	M	B

Si certaines armes te semblent familières, d'autres ne t'évoquent peut-être pas grand chose. Voici quelques définitions pour t'aider. Te souviens-tu de les avoir vues dans la salle d'armes ?

**L'espadaon** : c'est une grande épée que l'on doit manier à deux mains mais aussi le nom donné à un poisson au long bec des mers tropicales.

**La baïonnette** : c'est une lame fixée au canon du fusil, destinée au combat rapproché.

**La pertuisane** : c'est une arme dérivée de la lance, utilisée en Italie au 15<sup>e</sup> siècle.


**La cotte de maille** : c'est l'armure la plus répandue au Moyen Âge, un vêtement constitué de mailles reliées entre elles pour protéger le soldat.

**La giberne** : c'est une boîte portée en bandoulière par les soldats où ils conservaient leurs cartouches et les outils pour entretenir leurs armes.

# AU TEMPS DE LA PREMIERE GUERRE MONDIALE (1914-1918)

## 1. LES COMBATS DANS LA CITADELLE

Depuis 1878, la citadelle n'avait plus de fonction militaire. Pourtant, dès le début de la Première Guerre mondiale, en août 1914, elle deviendra un enjeu pour les combattants.



Les 6 illustrations qui introduisent l'Espace 1914, que tu as visité sans le guide, sont l'oeuvre de Julien Lambert, un jeune dessinateur dinantais.

D'après l'image, quel usage avait la citadelle avant la guerre de 1914 ? .....

Quelle est la nationalité des soldats qui vont se battre contre les Allemands lors des combats du 15 août à Dinant ? .....



Reconnais-tu ce soldat ? Quels éléments de sa vie connais-tu et pourquoi sa photo figure-t-elle dans l'exposition ? .....

A quel autre endroit retrouve-t-on également une statue de ce soldat ? .....

Sais-tu en quelle matière elle a été fabriquée ? (indice : spécialité qui a fait la richesse de la ville pendant des siècles) .....



### Savais-tu...

La raison pour laquelle la citadelle a été désaffectée ?

Vers 1860, les armes évoluent, notamment grâce à la **découverte de la culasse** qui permet de ne plus charger les armes par le canon. La citadelle devient vulnérable aux armes modernes.

Les soldats casernés à Dinant rejoignent les **forts en béton** de Namur et Liège, construits par Brialmont, à la fin du 19<sup>e</sup> siècle.



AU TEMPS DE LA PREMIERE  
GUERRE MONDIALE (1914-1918)

Sur cette image, sais-tu reconnaître les soldats français des soldats allemands?

À gauche, ce sont les soldats ..... et à droite, ce sont les soldats .....

À quoi les reconnais-tu? .....

Au début de la guerre, on pouvait aussi distinguer très facilement les Français des Allemands rien qu'à la couleur des uniformes. Peux-tu relier les crayons ci-dessous à la couleur des uniformes correspondants?



## Savais-tu que...

La Première Guerre mondiale marque le passage d'une guerre à l'ancienne aux conflits technologiques modernes. Vous avez déjà vu que l'armée belge était équipée de chiens, mais aussi d'aéroplanes (le nom de l'époque pour les avions).

Sur les lieux de combat, on entendait les rafales de mitrailleuses comme les détonations de canons de plus en plus puissants et destructeurs.

AU TEMPS DE LA PREMIERE  
GUERRE MONDIALE (1914-1918)

## 2. ET DINANT DANS TOUT ÇA ?

Dinant est un cas rare dans l'histoire de la Première Guerre mondiale sur le front de l'ouest : elle fut à la fois théâtre de combats militaires très meurtriers et lieu d'un massacre de civils en août 1914.

Relie les phrases suivantes aux chiffres correspondants:

- |   |       |
|---|-------|
| Nombre de civils tués par les Allemands •       | • 80  |
| Pourcentage de la population fusillée •         | • 23  |
| Date, au mois d'août, du massacre des civils •  | • 10  |
| Age de la victime la plus jeune (en semaines) • | • 674 |
| Pourcentage de maisons incendiées •             | • 3   |



## Mène l'enquête

Mot ⑤ à replacer page 19

Complète les phrases suivantes:

Le 15 août, les soldats français sont montés à la citadelle à pied, empruntant l'e..... (⑤) qui part du centre ville de Dinant.

Mais la citadelle est pleine de recoins et les soldats se sont battus à la b..... (⑧), au « corps à corps ». A l'issue des combats,


58 soldats f..... (⑨) et 12 soldats allemands trouvent la mort. Leurs cendres reposent sous un monument érigé par les Allemands pendant la guerre.

Mots ⑧ et ⑨ à replacer page 20



## Savais-tu que...

Selon les Allemands, c'est parce que des civils, appelés des "francs-tireurs", auraient tiré sur leurs soldats que des massacres ont eu lieu. Toutes les enquêtes ont cependant montré qu'il n'en était rien et que les Allemands ont agi par ressentiment, parce qu'ils avaient rencontré de la résistance lors du franchissement de la Meuse.





# CARNET DE JULIE ET BERNARD

Bonjour les amis,

Nous vous écrivons aujourd'hui pour vous raconter notre aventure à la citadelle de Dinant.

Quelle superbe journée nous avons passée. Dès notre arrivée, nous apprenons que la forteresse a été construite entre 1818 et ①..... par les Hollandais. C'est l'oeuvre du capitaine-ingénieur ②.....

Nous sommes perplexes: «pourquoi des Hollandais?» Le guide nous explique, qu'à cette époque là, la Belgique était réunie aux Provinces-Unies des Pays-Bas. Il faudra encore attendre dix ans avant que la Belgique ne devienne indépendante.

«Mais alors, pourquoi les Hollandais ont-ils construit la citadelle?» Le guide nous apprend qu'avant, il y avait une ville tous les 30 km sur la Meuse: à Dinant, Namur, Huy et Liège. La distance de 30 km correspondait à la distance parcourue, en un jour, par un cheval tirant un bateau. Chaque ville possédait un ③..... et une fortification pour le défendre.

«Et, avant 1820, n'y avait-il rien sur le rocher?» Il nous rassure: pendant le Moyen Âge, la ville de Dinant appartenait à la principauté de Liège. C'est en 1040 que le ④..... construisit un premier château-fort sur le rocher.

Nous voulons tout de suite savoir si celui-ci a été assiégé. «Oh oui, et à plusieurs reprises», nous répond notre guide. En 1466, le duc de Bourgogne, Charles le Téméraire vient assiéger la ville et fait raser le château fort. 800 Dinantais sont également attachés deux par deux et jetés dans la Meuse.

Nous sommes curieux: «Et que s'est-il passé après?» En 1525, soit soixante ans après la destruction de Dinant, le prince évêque de l'époque reconstruit le château. C'est de cette époque que date l' ⑤..... qui mène, encore aujourd'hui, à la citadelle.





mais l'histoire ne s'arrête pas là. En 1675, c'est au tour du roi de France, Louis XIV, de s'attaquer à Dinant. Jusqu'en 1698, les troupes du ⑥..... vont occuper la ville. Le château subit alors d'importantes modifications, sous la direction de Vauban, l'⑦..... de Louis XIV. A cette époque, les constructions se composent du château proprement dit, dont la superficie correspond à celle de la citadelle actuelle, et de constructions défensives importantes vers la campagne.


Nous sommes de plus en plus étonnés: «Qu'est devenu ce château?» Le guide nous explique, qu'à son départ, Louis XIV a dû démolir toutes les constructions de Vauban, ne laissant que des ruines sur le rocher. Il faudra attendre 1820 pour qu'une nouvelle forteresse soit construite, celle que nous visitons aujourd'hui.

Après le récit de toutes ces batailles au temps du château fort, nous voulons savoir s'il en a été de même pour la citadelle. «Pas tout à fait», nous répond le guide. Depuis 1878, la citadelle n'a plus de fonction militaire et en 1906, elle devient même un musée. Mais, pendant la Première Guerre mondiale, elle sera un enjeu pour les combattants.

Dès le 8 août 1914, le fort est occupé par les Allemands. Le 15 août au matin, les troupes françaises, montées à l'assaut de la citadelle, doivent battre en retraite après des combats au corps à corps à la ⑧..... Mais, en fin de journée, les ⑨..... reprennent le fort, s'emparent du drapeau allemand qui flottait au dessus du point de vue et en chassent l'occupant. Que d'événements!

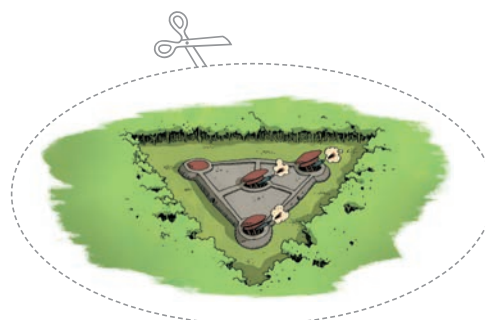
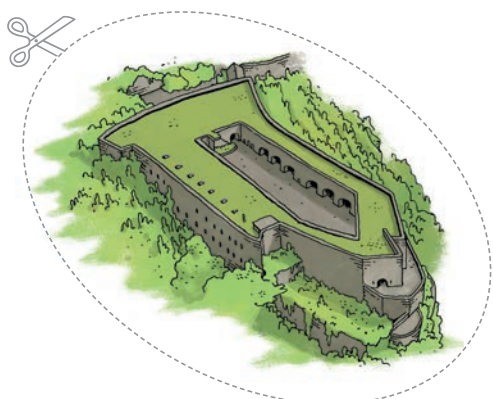

Nous continuons ensuite notre visite. Dans la salle d'armes, le guide nous montre un ⑩....., de deux mètres de long. À l'époque hollandaise, ils étaient posés dans les meurtrières pour défendre les murs de la citadelle. Le guide précise qu'un fusil pèse environ 10kg, ce qui finit de nous impressionner. Mais le meilleur reste à venir! Nous pénétrons ensuite dans une reconstitution d'une tranchée de la Première Guerre mondiale et d'un abri effondré.

C'est ici que se termine le récit de notre journée à la citadelle de Dinant. Nous quittons notre guide avec une seule idée en tête, revenir un jour explorer à nouveau la forteresse.



# POUR CONCLURE...

Merci, grâce à ton aide, Julie et Bernard ont complété leur carnet. Avec tout ce que tu as appris dans ce dossier pédagogique, te voilà à présent capable de retracer l'évolution des fortifications à travers le temps. Découpe les images et les légendes ci-dessous et replace les au bon endroit sur la ligne du temps de la page suivante.



Fortifications  
au tracé  
polygonal

Châteaux  
en pierre

Architecture  
en étoile  
de Vauban

Forts  
en béton  
de Brialmont

Châteaux  
en bois

Evolution des fortifications

